

ALLENAMENTE - MARIA E PAUL

Lezione 24 aprile 2020,

nella video lezione di oggi abbiamo approfondito il concetto di decina, introdotto lo scorso venerdì, attraverso la visione di un video ed un gioco a squadre. Nell'ultima parte della lezione abbiamo letto un libro.

Inviemo attività e schede passatempo per allenare la mente, da svolgere *in autonomia* e *da consegnare* (anche con eventuali errori) con le modalità che oramai ben conoscete, *entro giovedì 30 aprile*.

Grazie per la vostra preziosa collaborazione!

A mercoledì,

Maria e Paul

PROBLEMI

FRANCA HA MESSO ALCUNE BRICIOLE DI
PANE SUL DAVANZALE DELLA FINESTRA.
PRIMA SONO ARRIVATI **5** UCCELLINI,
POI ALTRI **3**.

QUANTI UCCELLINI SONO
ARRIVATI IN TOTALE?

OPERAZIONE

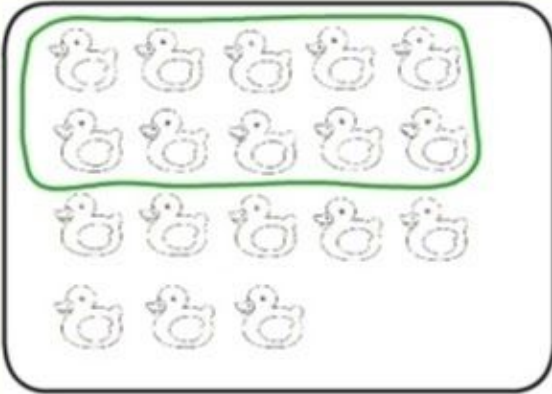
$$\square \oplus \square = \square$$

RISPOSTA


IN TOTALE SONO ARRIVATI UCCELLINI.



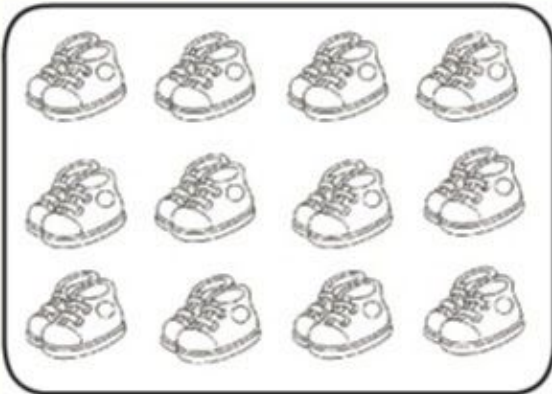
Raggruppa per 10 e scrivi il numero nella tabella



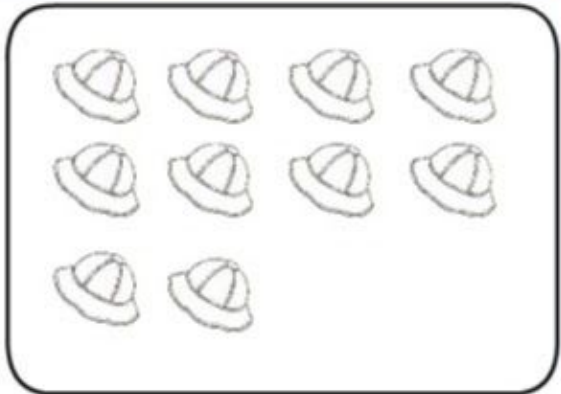
da	u
1	8



da	u
.....



da	u
.....



da	u
.....

SCRIVI I NUMERI IN LETTERE

DICIOTTO

.....

.....

.....

.....



10

7

+



10

1

+



QUANTO MANCA
PER ARRIVARE A 10?



15 12 21 14 10

QUANTI ANIMALI VEDI?

LA DECINA

LA DECINA È UN GRUPPO DI 10 ELEMENTI.



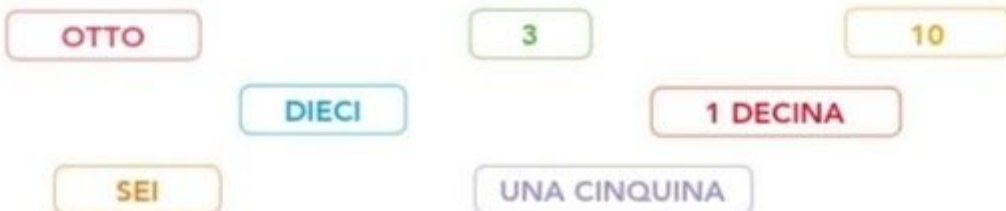
1 SEGNA CON UNA X IL SACCHETTO CON UNA DECINA DI BIGLIE.



2 DISEGNA O CANCELLA GLI ELEMENTI IN MODO DA FORMARE UNA DECINA.

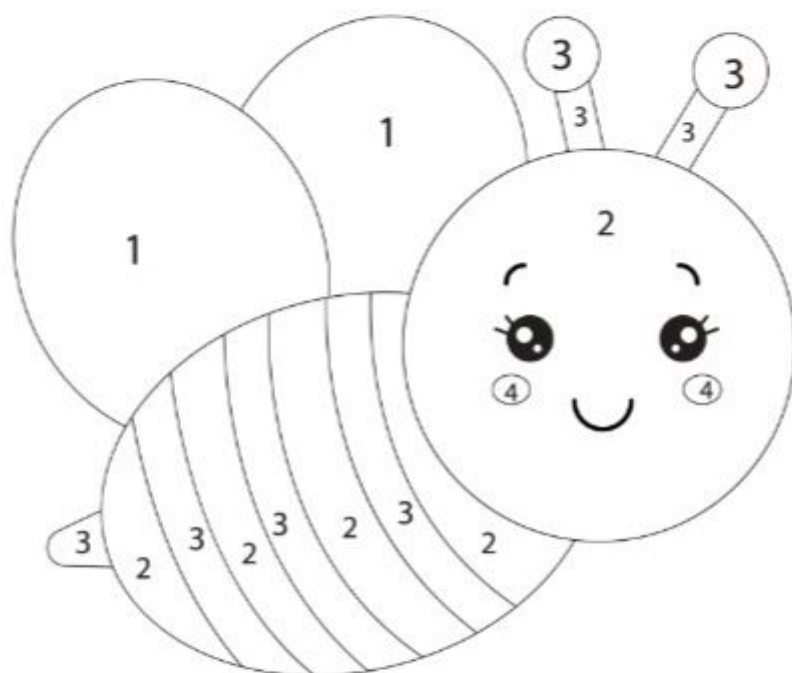


3 COLORA I RIQUADRI CHE INDICANO 10 ELEMENTI.



Schede didattiche sulla primavera

- Colora in base al numero.



1 - ●


3 - ●

2 - ●

4 - ●

NUMERI AL CIRCO

1 Colora ogni regione con i colori indicati dai risultati.



 = 8

 = 6

 = 12

 = 20

 = 10

 = 7

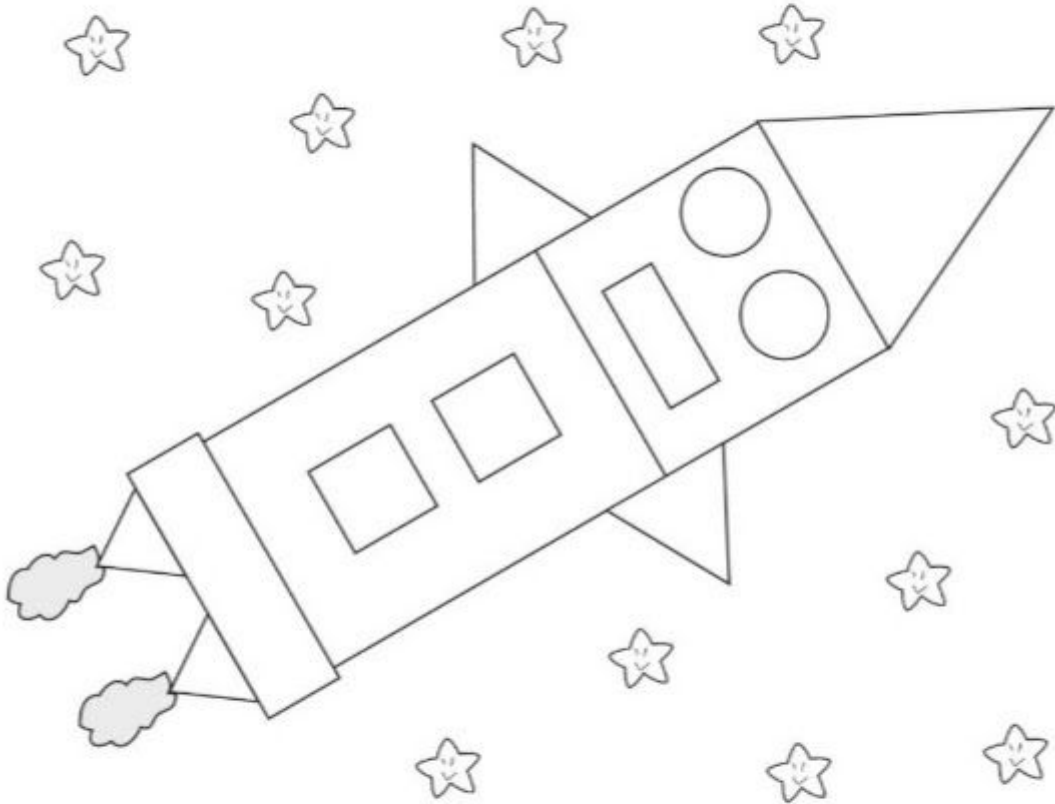
 = 11

 = 13


VERSO MARTE

1 Colora la navicella spaziale secondo le indicazioni, poi completa la tabella.

○ azzurro △ verde □ giallo ▭ rosso



QUANTI?			
○ cerchi	△ triangoli	□ quadrati	▭ rettangoli
_____	_____	_____	_____



Quante foglie riusciranno a mangiarsi i bruchini?



■ CERCHIA SOLO I NUMERI 1.

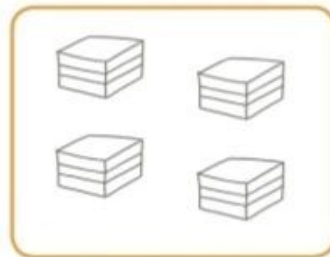




■ COLORA...

1 CAMELLA

1 PASTICCINO

1 CIOCCOLATINO




■ ORA DISEGNA...

1 MELA


1 PERA

1 BANANA




LA DECINA

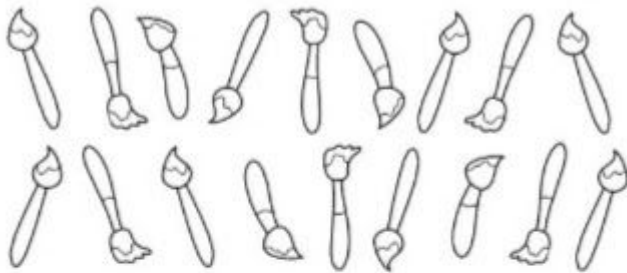
1 Raggruppa per dieci e registra, come nell'esempio.



decine	unità
1	5



decine	unità



decine	unità



decine	unità

DECINE E UNITÀ

OGNI ELEMENTO DI UN GRUPPO SI CHIAMA **UNITÀ (u)**.
1 DECINA (da) È FORMATA DA **10 UNITÀ (u)**.



1 RAGGRUPPA PER 10, COMPLETA E REGISTRA IN TABELLA.



Ho formato: 1 da

Restano fuori: u

da	u

2 RAGGRUPPA PER 10 E REGISTRA IN TABELLA.



da	u



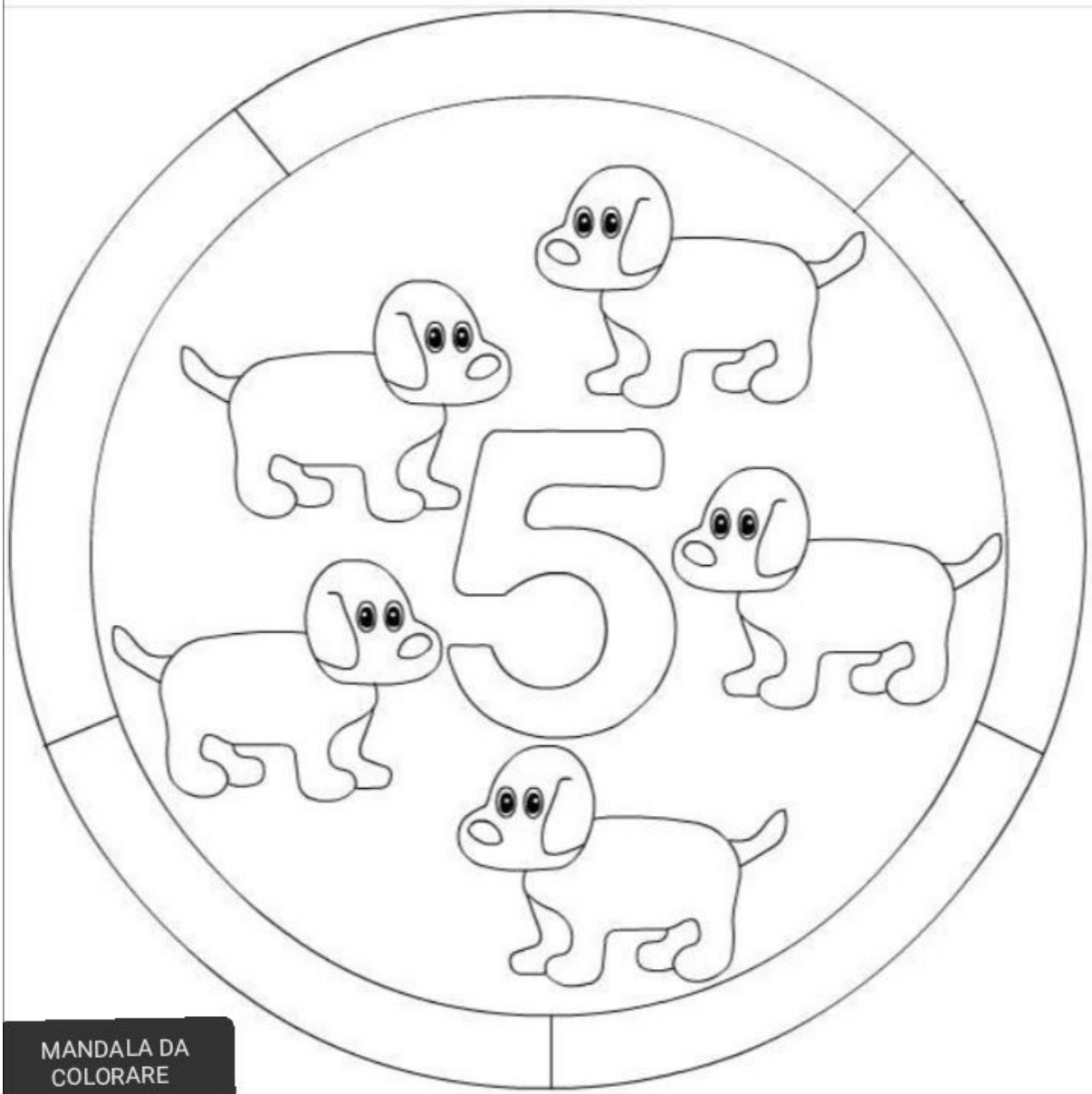
da	u



da	u



da	u



MANDALA DA
COLORARE

Unisci i puntini dall' 1 al 15

