

ALLENAMENTE - MARIA E PAUL

Lezione 15 maggio 2020,

Nella video lezione di oggi abbiamo parlato della differenza che c'è tra 'Monarchia' e 'Repubblica' e dell'organizzazione della Stato italiano introducendo i concetti di potere legislativo, esecutivo e giudiziario. Lo abbiamo fatto guardando delle immagini e facendo degli esempi su noi stessi.

Inviemo attività e schede passatempo per allenare la mente, da svolgere *in autonomia* e *da consegnare* (anche con eventuali errori) con le modalità che oramai ben conoscete, *entro giovedì 21 maggio*.

Grazie per la vostra preziosa collaborazione!

A lunedì,

Maria e Paul

A math trail for bees. It starts with the number 5 in a blue circle. The trail consists of several blue circles connected by lines, with yellow circles containing mathematical operations. The operations are: +4, +1, -5, +4, +7, -3, +5, and +2. There are also several colorful flowers scattered around the trail. At the bottom, there are three cartoon bees.

5

+4

+1

-5

+4

+7

-3


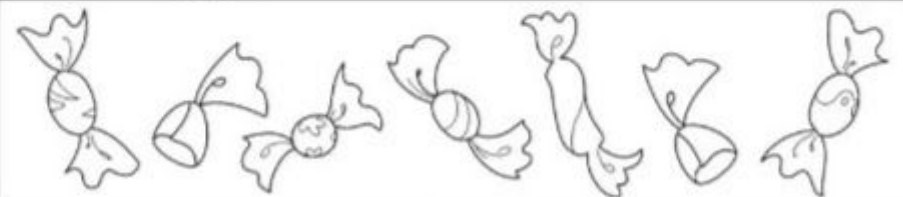



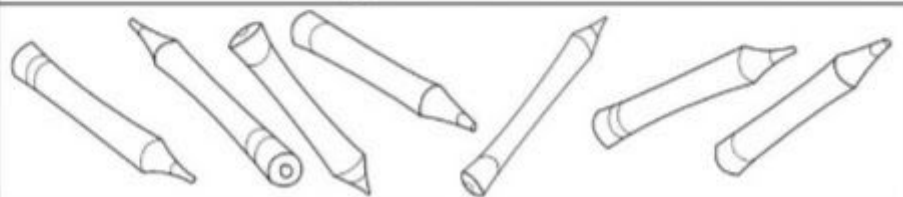
+5

+2

Su quanti fiori voleranno le api?

TANTI QUANTI...

1 COLORA TANTI ELEMENTI QUANTI INDICATI DAL NUMERO.

| | |
|---|--|
| 2 |  |
| 3 |  |
| 5 |  |
| 1 |  |
| 4 |  |
| 6 |  |

17 11 21 9 12

QUANTI ANIMALI VEDI?

8

6 +

8

4 +

SCOMPONI I NUMERI

CONTA E COLORA

Esegui le addizioni e colora con il colore corrispondente:

$6 + 3 = \underline{\quad} \text{ BLU} \quad 8 + 2 = \underline{\quad} \text{ VIOLA}$

$5 + 2 = \underline{\quad} \text{ GIALLO} \quad 10 + 2 = \underline{\quad} \text{ MARRON}$

$4 + 4 = \underline{\quad} \text{ GRIGIO} \quad 7 + 4 = \underline{\quad} \text{ ROSSO}$

